

2022年度

入学試験（1次A）問題

社 会

答えはすべて解答用紙に書きなさい。

横須賀学院中学校

1 宗教に関する日本の歴史をまとめた次の年表を見て、各問いに答えなさい。

縄文時代	あらゆる自然物や自然現象に神が宿っていると信じていた
弥生時代	邪馬台国の女王（あ）は神に仕え、まじないによって政治を行った
古墳時代	朝鮮半島の（い）から日本へ仏教が伝わった
飛鳥時代	①聖徳太子は仏教を広め、その精神を政治にいかそうとした
②奈良時代	③聖武天皇は仏教の力で国を治めようとした
平安時代	④政治と結びつかない新しい仏教が誕生した
鎌倉時代	⑤だれでもわかりやすく、実行しやすい仏教が誕生し、武士や民衆に広まった
⑥戦国時代	1549年、イエズス会の宣教師（う）が鹿児島に上陸し、 ⑦日本に初めてキリスト教を伝えた ⑧1587年、豊臣秀吉はバテレン追放令を出した
江戸時代	⑨キリスト教徒を中心として島原・天草一揆がおきた
明治時代	1873年、キリスト教の布教禁止が解かれた キリスト教系の高校や大学が設立されていった

問1 年表中の空欄（あ）～（う）にあてはまる語をそれぞれ答えなさい。

問2 下線部①について、聖徳太子が制定した十七条の憲法の条文のうち、仏教を厚く信仰すべきだと述べている条文を、次のア～エのうちから一つ選び、記号で答えなさい。

- ア. 和を貴び、人にさからうことのないよう心がけよ
- イ. 三宝をあつく敬え。三宝とは仏像・経典・僧侶である
- ウ. 天皇の命令である詔を受けたなら、かならずつつしんでしたがうように
- エ. 役人は礼を基本とし、人民を統治する基本は礼である

問3 下線部②に関連して、[資料1]を見ると、女性の割合と長寿者の割合が高いことがわかります。このような現象は奈良時代から見られます。これはなぜだと考えられますか。[資料2]を参考にしながらあなたの考えを書きなさい。

[資料1] 延喜二年阿波国戸籍

年齢層	男	女	合計	%
1～10	1	0	1	0.2
11～20	5	1	6	1.5
21～30	8	15	23	6.6
31～40	4	34	38	9.3
41～50	8	71	79	19.2
51～60	2	61	63	15.3
61～70	1	70	71	17.3
71～80	8	59	67	16.3
81～90	6	34	40	9.7
91～100	5	13	18	4.4
101～110	1	3	4	1.0
111～120	1	0	1	0.2
合計	50	361	411	100.0

(平田耿二『日本古代籍帳制度論』吉川弘文館、1986年)

[資料2]

	正丁 (21～60歳の男性)	老丁 (61～65歳の男性)	中男(少丁) (17～20歳の男性)	備考
そ租	稲(収穫の約3%)			口分田があたえられた男女全てが負担。
ちょう調	絹・糸・布(麻布)や特産物などを一定量	正丁の $\frac{1}{2}$	正丁の $\frac{1}{4}$	
よう庸	2丈6尺(約8m)の布(都での労役10日のかわり)	正丁の $\frac{1}{2}$	なし	京・畿内はなし。
ぞうよう雑徭	各国での労役(年間60日以下)	正丁の $\frac{1}{2}$	正丁の $\frac{1}{4}$	
へいえき兵役	3人に1人(一部は衛士<1年>, 防人<3年>)	なし	なし	食料・武器は自己負担。
すいこ出挙	稲(貸し付けられた量と, その利息<50%>)			

(『中学歴史 日本と世界』山川出版社、2020年)

問4 下線部③に関連して、聖武天皇について説明した文として誤っているものを、次のア～エのうちから一つ選び、記号で答えなさい。

- ア. 国ごとに国分寺・国分尼寺を建てるように命じた
- イ. 奈良に東大寺を建てさせた
- ウ. 大仏造立の詔を出し、行基が大仏づくりに協力した
- エ. 聖武天皇の遺品の多くは唐招提寺に収められている

問5 下線部④について、次の文章中の空欄（ あ ）にあてはまる語を答えなさい。

最澄は比叡山に（ あ ）を建て、新しい仏教として天台宗を広めた。
しかし、1571年に（ あ ）は、織田信長によって焼き打ちにされた。


問6 下線部⑤について、この時代に生まれた新しい仏教の宗派と開祖の組み合わせとして正しいものを次のア～エのうちから一つ選び、記号で答えなさい。

- ア. 時宗 - 法然
- イ. 浄土真宗 - 親鸞
- ウ. 浄土宗 - 日蓮
- エ. 臨済宗 - 道元

問7 下線部⑥について、戦国時代にはポルトガル人によって鉄砲が伝えられました。鉄砲を扱う歩兵が居住していたことなどを由来として、今も日本の各地には「鉄砲町」という名が残っています。当時最も鉄砲生産が盛んで、今も「鉄砲町」の名が残る大阪府の都市はどこですか。次のア～エのうちから一つ選び、記号で答えなさい。


- ア. 博多
- イ. 堺
- ウ. 柏崎
- エ. 平戸

問8 下線部⑦について、キリスト教の伝来以降、日本には南蛮寺と呼ばれる教会堂が建てられました。南蛮寺の建物にはキリスト教ならではの特徴が見られます。それはどのような特徴でしょうか。次の南蛮寺の絵を見て、答えなさい。



(狩野内膳画「南蛮屏風」)

問9 下線部⑧について、豊臣秀吉はバテレン追放令を出し、キリスト教宣教師の国外追放を命じました。しかし、それにもかかわらず、キリスト教の拡大を止めることはできませんでした。次の絵を参考にしながら、キリスト教の拡大を止めることができなかった理由を答えなさい。



(狩野内膳画「南蛮屏風」)

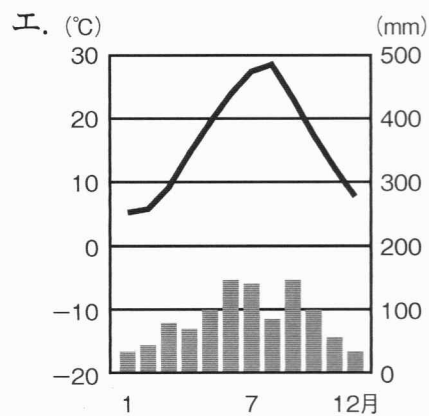
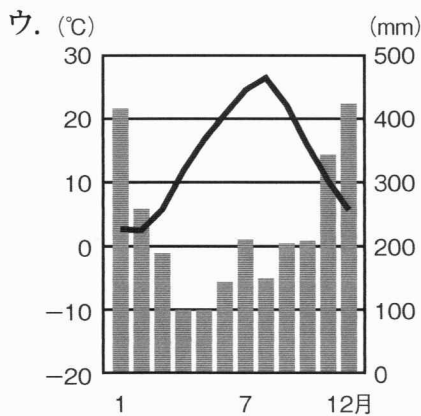
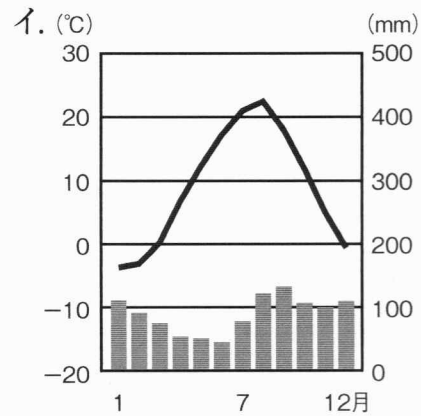
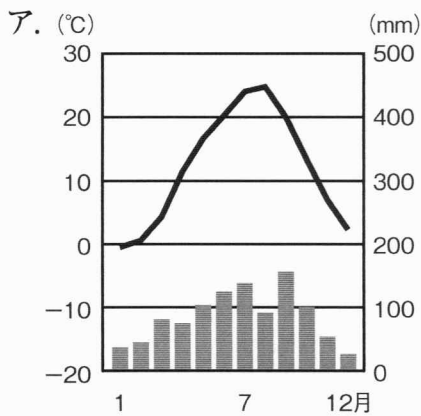
問10 下線部⑨について、この一揆の後、江戸幕府はさらにキリスト教を厳しく取り締まるようになりました。江戸幕府がキリスト教を取り締まるために行った政策名を一つ答えなさい。

2 次の各問いに答えなさい。

問1 千島列島・北海道の東岸を通り、三陸海岸の沖合を流れる寒流を何といいますか。次のア～エのうちから一つ選び、記号で答えなさい。

- ア. リマン海流 イ. 親潮
ウ. 対馬海流 エ. 黒潮

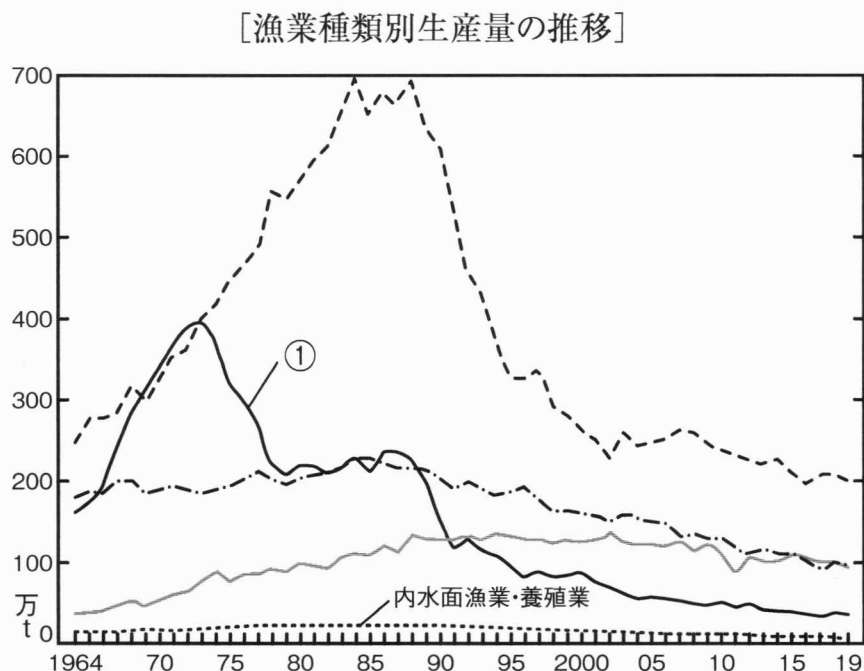
問2 高松（香川県）の雨温図として正しいものを、次のア～エのうちから一つ選び、記号で答えなさい。



問3 コロナ禍において、各教育機関では、対面型の授業とオンライン授業を組み合わせた「ハイブリッド型」と呼ばれる授業を展開するところが増えました。この「ハイブリッド」とは「組み合わせる」という意味の言葉で、「ハイブリッドカー」と呼ばれる車も普及しています。「ハイブリッドカー」とはどのような車のことですか。次の文章の空欄（あ）・（い）にあてはまる語をそれぞれ答えなさい。

（あ）で動くエンジンと、（い）で動くモーターの2つの動力源を備えた車のことである。

問4 次のグラフを見て、各問いに答えなさい。



(『日本国勢図会 2021/22年版』)

i) 上のグラフの①は、どの漁業の推移を示したものでしょうか。次のア～エのうちから一つ選び、記号で答えなさい。

- ア. 遠洋漁業
- イ. 海面養殖業
- ウ. 沿岸漁業
- エ. 沖合漁業

ii) 上のグラフの①を見ると、この漁業の漁獲量が1970年代から減少していったことがわかります。その理由を説明した次の文章の空欄(あ)・(い)にあてはまる語をそれぞれ答えなさい。

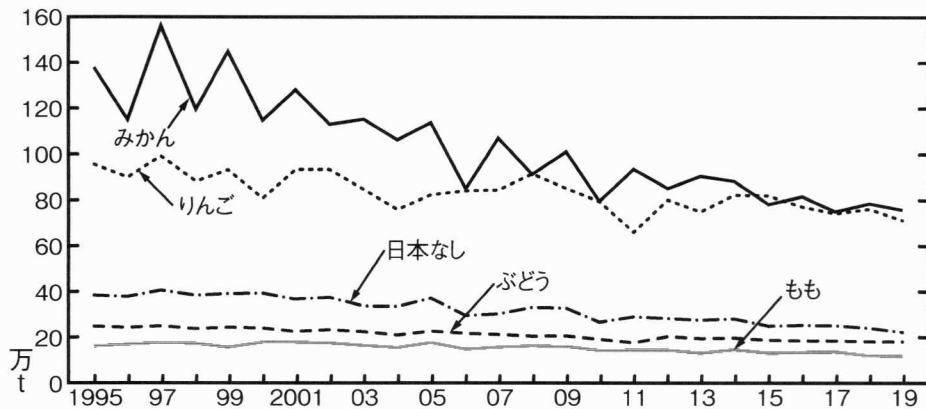
日本のエネルギー資源第一位は石油である。その原料である原油は、輸入に頼っていて、中東地域から最も多く輸入している。1973年に第4次中東戦争をきっかけに(あ)がおきて、船の燃料費が値上がりしたことで、この漁業の衰退がはじまった。また、1980年代前半から(い)水域が設定されたことで、漁場が制限されたことも、この漁業が衰退した理由の一つに挙げられる。

問5 次の文章を読み、問いに答えなさい。

みのるくんは、近所のスーパーマーケットで果汁100%のみかんジュース(1000ml／一本300円)をよく購入していましたが、いつの間にかボトル形状がリニューアルされ、価格はこれまでと変わらないのに内容量が800mlに減っていることに気がつきました。これは、「ステルス値上げ(シュリンクフレージョン)」といって、事実上の値上げです。あからさまに値上げすると売り上げは落ち込みやすいのですが、ステルス値上げは一見すると消費者にはわかりにくいので、売り上げが落ち込みにくいとされています。

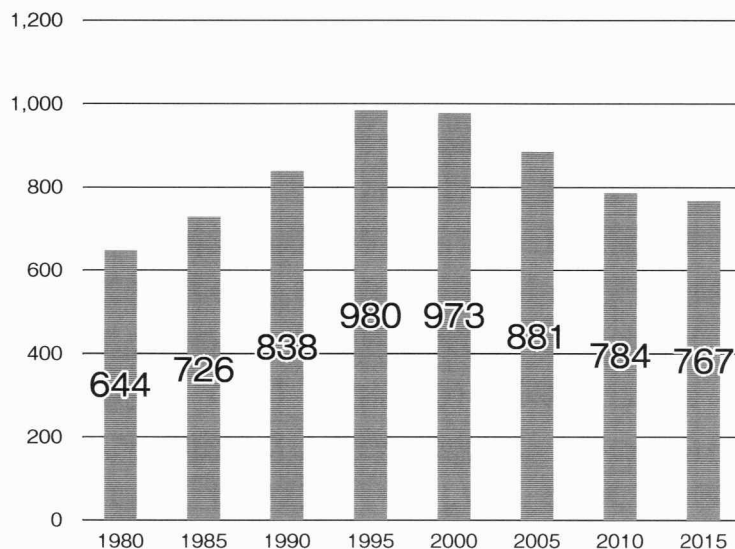
(問い) このみかんジュースを生産する企業が商品を値上げした理由を、次の二つの資料を参考にしながら考えて説明しなさい。

[主な果実の収穫量の推移]



(『日本国勢図会 2021/22年版』)

[道路貨物運送業の運転従事者数(千人)の推移]



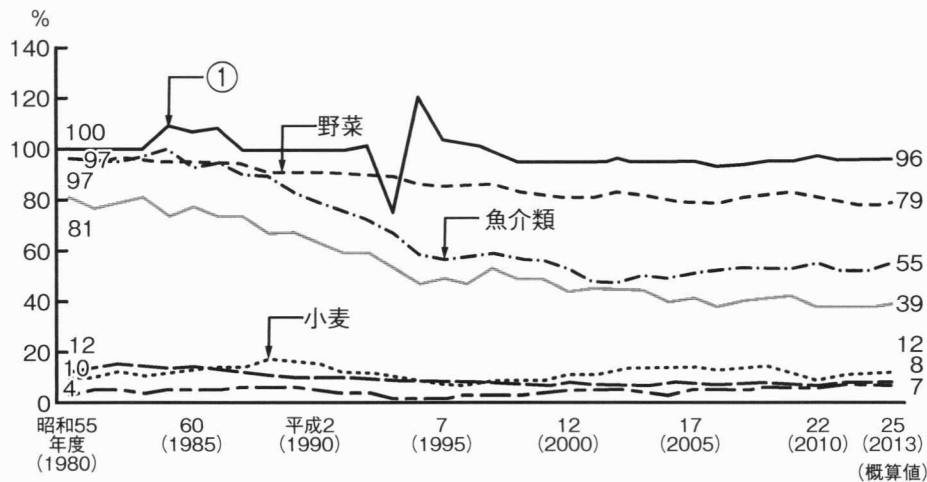
(日本ロジスティクスシステム協会 「ロジスティクスコンセプト 2030」)

問6 次の文章を読み、問いに答えなさい。

近年、農業を活性化させる方法として、「六次産業化」という取り組みが行われています。これは、農林漁業者が生産した農林水産物を自ら加工して新商品を開発し、その販売にも取り組んで農林水産物を活発化させていこうとするものです。

(問い) あなたの住む町は、ブルーベリーの生産量が日本一です。町のブルーベリー農業を活性化させるために、あなたはどのような「六次産業化」の取り組みを考案しますか。あなたの考えを書きなさい。

問7 次のグラフは農畜産物の食料自給率の変化を表したものです。グラフの①は、どの農畜産物の変化を示したものですか。次のア～エのうちから一つ選び、記号で答えなさい。



(農林水産省 『平成 26 年度 食料・農業・農村白書』)

ア. 果物 イ. 米 ウ. 肉類 エ. 大豆

問8 とうもろこしやさとうきびなどの植物からつくられる燃料をバイオ燃料といいます。バイオ燃料の生産量が世界第一位の国は、とうもろこしの生産量が世界第一位を誇り、日本のとうもろこしの輸入相手国としても第一位の国です。その国を、次のア～エのうちから一つ選び、記号で答えなさい。

ア. ブラジル イ. アメリカ ウ. 中国 エ. アルゼンチン

3 次の各問いに答えなさい。

問1 オリンピック憲章のなかには、「このオリンピック憲章の定める権利および自由は人種、肌の色、性別、性的指向、言語、宗教、政治的またはその他の意見、国あるいは社会のルーツ、財産、出自やその他の身分などの理由による、いかなる種類の差別も受けることなく、確実に享受されなければならない。」とあります。このなかに性的指向という言葉が盛り込まれたのは2014年であり、東京2020大会では自らが「セクシュアルマイノリティ」であることを公表するアスリートが、これまで開催されたオリンピックのなかで最多であったと言われています。この「セクシュアルマイノリティ」の方々のことを表す言葉をアルファベットで答えなさい。

問2 次の日本国憲法の前文と条文の空欄（あ）～（お）にあてはまる語をそれぞれ答えなさい。

第1条 天皇は、日本国の（あ）であり日本国民統合の（あ）であって、この地位は、（い）の存する日本国民の総意に基く。

第9条 日本国民は、正義と秩序を基調とする国際平和を誠実に希求し、国権の発動たる（う）と、武力による威嚇又は武力の行使は、国際紛争を解決する手段としては、永久にこれを放棄する。

第13条 すべて国民は、個人として尊重される。生命、自由及び幸福追求に対する国民の権利については、（え）に反しない限り、立法その他の国政の上で、最大の尊重を必要とする。

第25条 すべて国民は、健康で文化的な（お）の生活を営む権利を有する。

問3 国会、内閣、裁判所の三つの機関が、国の政治の中心です。次の1～5は、それぞれ国会、内閣、裁判所のどの機関の仕事ですか。国会であればア、内閣であればイ、裁判所であればウで答えなさい。

1. 予算案を審議し、決定する
2. 法律や条例などが憲法に違反していないかどうか判断する
3. 外国と条約を結ぶ
4. 内閣総理大臣を指名する
5. 憲法の改正を発議する