

2023年度

入学試験（1次A）問題

社 会

---

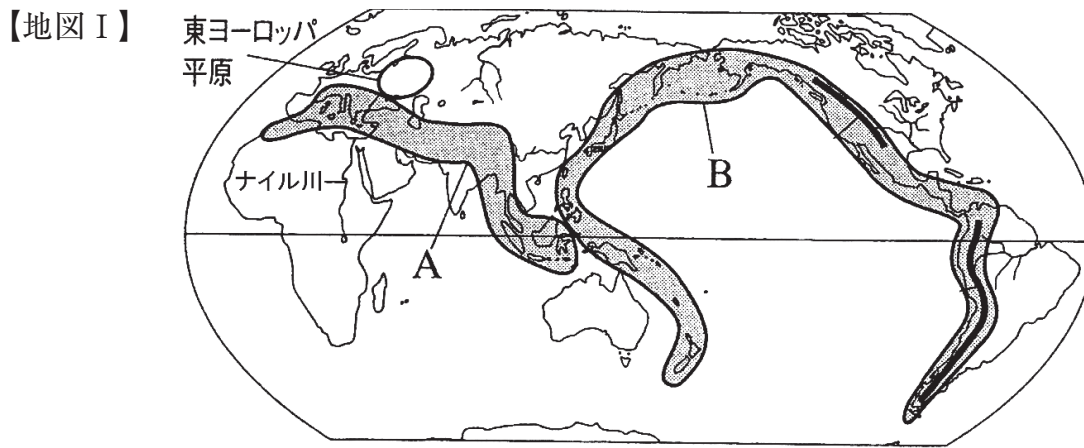
答えはすべて解答用紙に書きなさい。

---

横須賀学院中学校

1 次の文章を読み、以下の各問に答えなさい。

日本は、地震や火山の噴火が多い国といえる。世界の中で、これらの活動が活発なところはおもに山地や山脈がつらなっている（a）造山帯に属している。日本もこの造山帯に属しており、（b）国土面積の大部分を山地が占める。本州の中央部には、（c）飛騨山脈、木曾山脈、赤石山脈がそびえ、そのすぐ東には（d）と呼ばれる本州を南北にのびるみぞ状の地形が存在する。（d）の西の端の（e）県糸魚川市から、諏訪湖を通過して静岡県にいたる。（d）を境にして東と西では地形や地質などが大きく異なっている。



問1 下線部（a）について、上の【地図Ⅰ】中のA・Bの名称をそれぞれ答えなさい。

問2 下線部（b）の山地が国土面積に占める割合を、次から一つ選び、記号で答えなさい。

ア、約3分の2      イ、約5分の3      ウ、約4分の3      エ、約5分の4

問3 下線部（c）について、日本の中央部に位置するこれらの山脈をまとめて何と呼ぶか、答えなさい。

問4 空欄（d）を何というか、答えなさい。

問5 空欄（e）にあてはまる都道府県名を答えなさい。

問6 日本の火山とその分布について、次の各問に答えなさい。

(1) 火山は自然災害の原因ともなるが、恩恵ももたらす。火山の恩恵としてあきらかに間違っているものを次から一つ選び、記号で答えなさい。

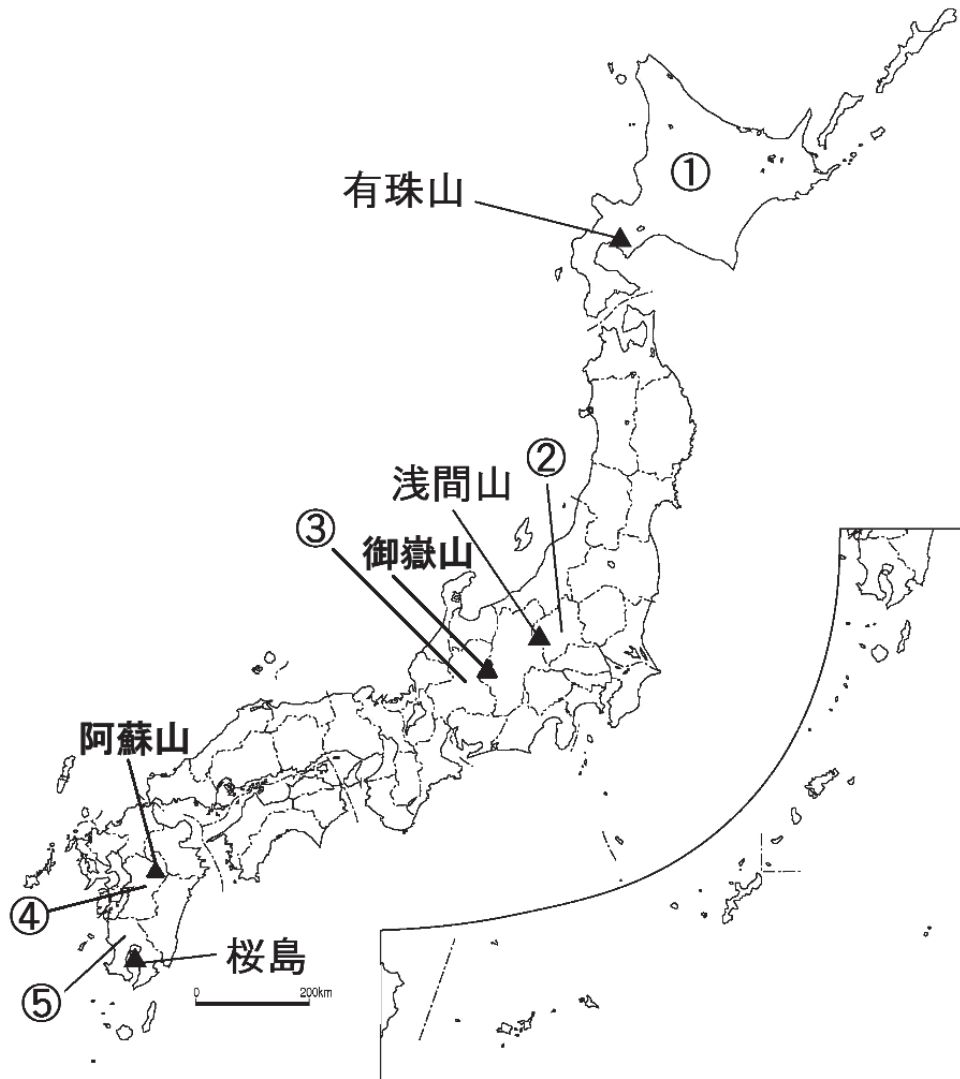
ア、地熱エネルギー      イ、温泉      ウ、美しい景観      エ、火力発電

(2) 下の地図Ⅱは、今も活動し続けている火山の一例である。

地図Ⅱの中の都道府県①～⑤のうち、①～②は都道府県庁所在地、③～⑤は都道府県名を答えなさい。

※地図中の①～⑤と、以下の文中の①～⑤には同じ名称が入る。

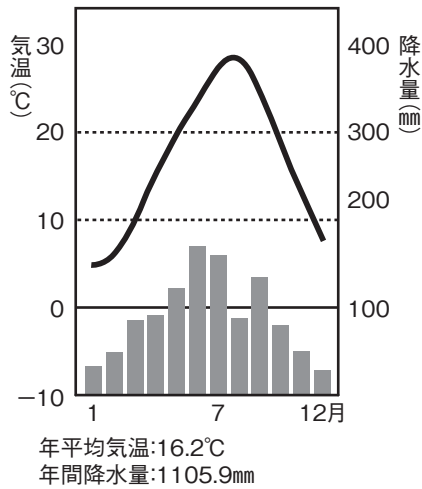
【地図Ⅱ】



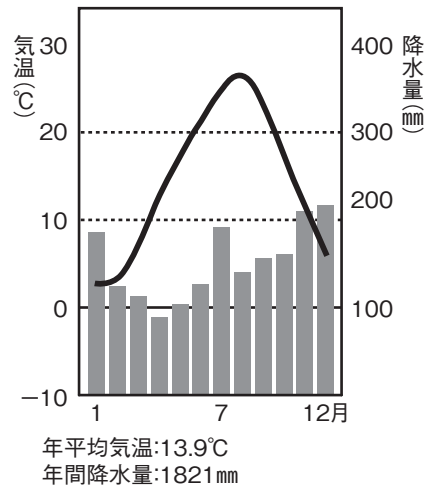
- 有珠山うすざん - ( ① ) の洞爺湖とうやこの南に位置する活火山。2000年の噴火で被害ひがいを受けた災さい害遺構がいこうが保存されている。
- 浅間山せんま - ( ② ) と長野県にまたがる火山。江戸時代に噴火したことで有名。
- 御嶽山おんたけさん - 長野県と ( ③ ) にまたがる火山。2014年に戦後最大の噴火被害が起こったことで有名。
- 阿蘇山あそさん - ( ④ ) に位置し、2021年にも噴火が確認され、現在も活動が盛んである。2015年にはユネスコジオパークとして認定された。
- 桜島おおすみはんとう - ( ⑤ ) にあり、大隅半島と陸続きである。現在も活発な活動を続けており、しばしば市街地に降灰がみられる。

(3) 地図Ⅱの中の①の地域の気候を表す雨温図を、次から一つ選び、記号で答えなさい。

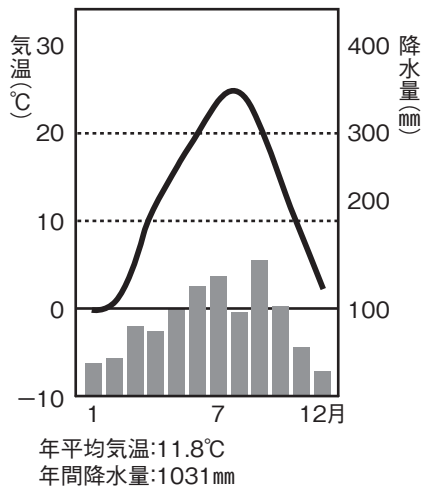
ア、



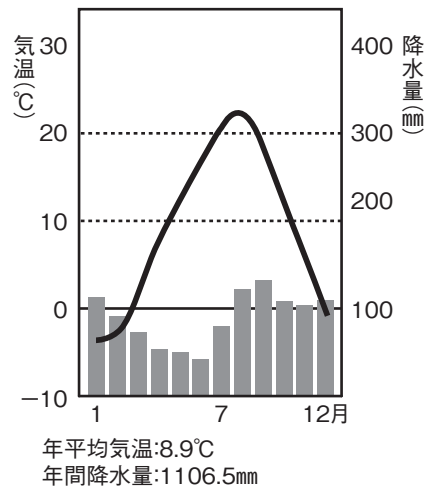
イ、



ウ、



エ、



(4) 火山に関して述べた文のうち、間違っているものを次から一つ選び、記号で答えなさい。

- ア、火山周辺には火山活動で形成された大きなくぼみであるツンドラと呼ばれる地形が広がる。
- イ、火山灰が降り積もってできたシラス台地では、水はけのよい<sup>どじょうとく</sup>土壤の<sup>ちよう</sup>特徴から野菜や茶が栽培<sup>さいばい</sup>されている。
- ウ、火山周辺の「マグマだまり」を熱源として、地熱エネルギーを利用した地熱発電が行われている。
- エ、火山周辺の地熱地帯では、発電以外にも、<sup>だんぼう</sup>暖房、<sup>しせつえんげい</sup>施設園芸、浴用など各温度段階で様々に利用されている。

問7 次の資料を読み、群馬県が企業や人々の移転先として注目されている要因について、あなたの考えを書きなさい。

【資料1】

「NTT（東京都）は8月8日、群馬県高崎市に「本社組織の分散拠点を設置」することを発表。さらに、ギョーザで有名な「大阪王将」ブランドの冷凍ギョーザを生産・販売するイトアンドフーズ（東京都）も、群馬県板倉町に第三工場を建設中（10月操業開始予定）…群馬県は企業などの「移転・進出」だけでなく、生活者の「移住」先としても存在感を強めている。」（「朝日新聞」2022年8月21日）

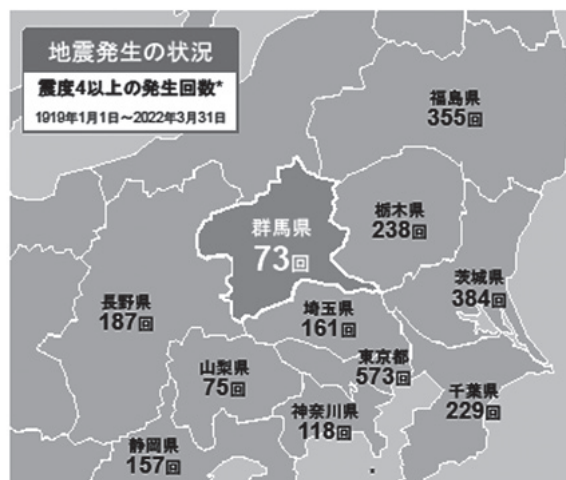
【資料2】

都道府県別自然災害被害状況（令和元年）

都道府県	※		人的被害（人）		建物（住家）被害（棟）				その他	
	り災世帯数	り災者数	死者、行方不明者	負傷者	全壊	半壊	床上浸水	床下浸水	河川（箇所）	崖くずれ（箇所）
全国	48,343	86,149	159	1,350	3,705	34,479	8,776	29,885	10,612	2,418
茨城	1,825	3,614	3	45	150	1,691	116	590	155	55
栃木	5,043	11,789	4	24	82	5,051	11	148	1,302	308
群馬	413	999	5	16	22	296	31	145	328	21
埼玉	3,176	5,477	4	45	107	570	2,090	3,376	133	162
千葉	7,254	7,254	14	118	476	6,267	511	956	158	—
東京	1,395	1,685	4	19	56	821	345	544	192	90
神奈川	2,742	5,695	10	57	67	929	966	633	152	512

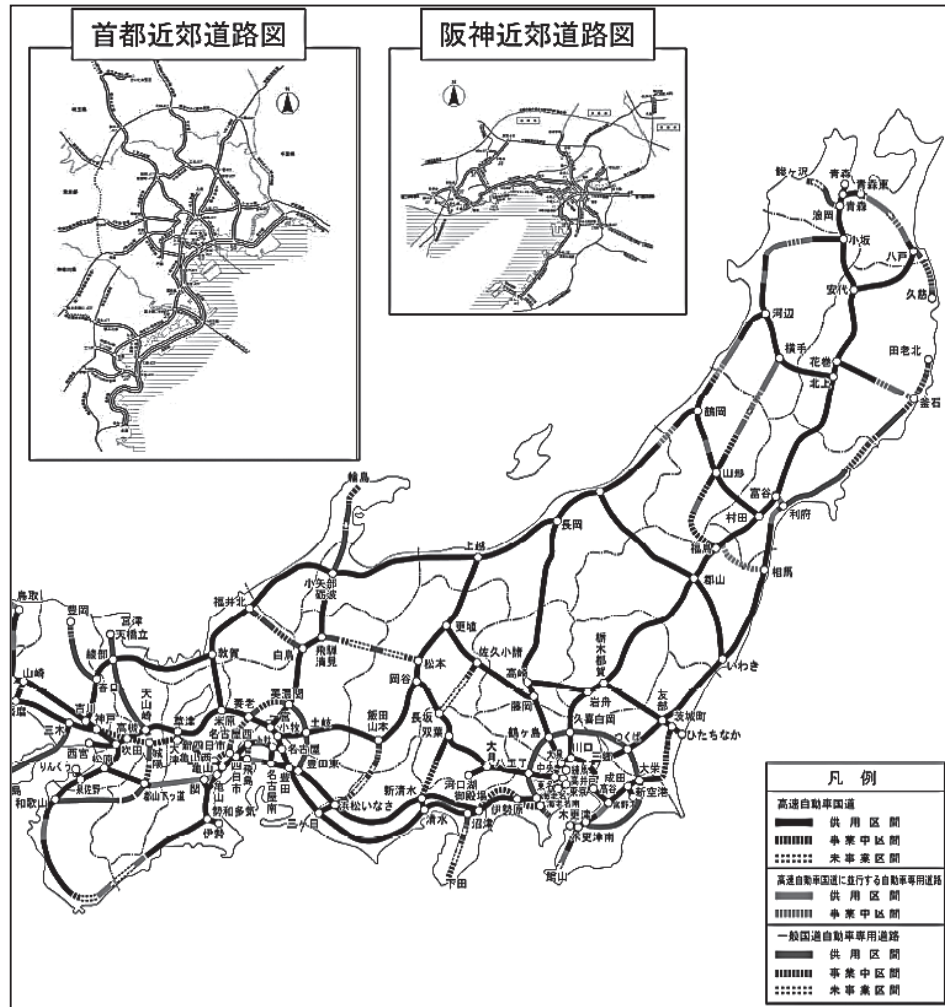
自然災害とは、暴風、豪雨、豪雪、洪水、高潮、地震、津波、その他の異常な自然現象をいう。資料 消防庁「消防白書」

※ り災…災害にあい、損害をこうむること。（「総務省統計局2019」）

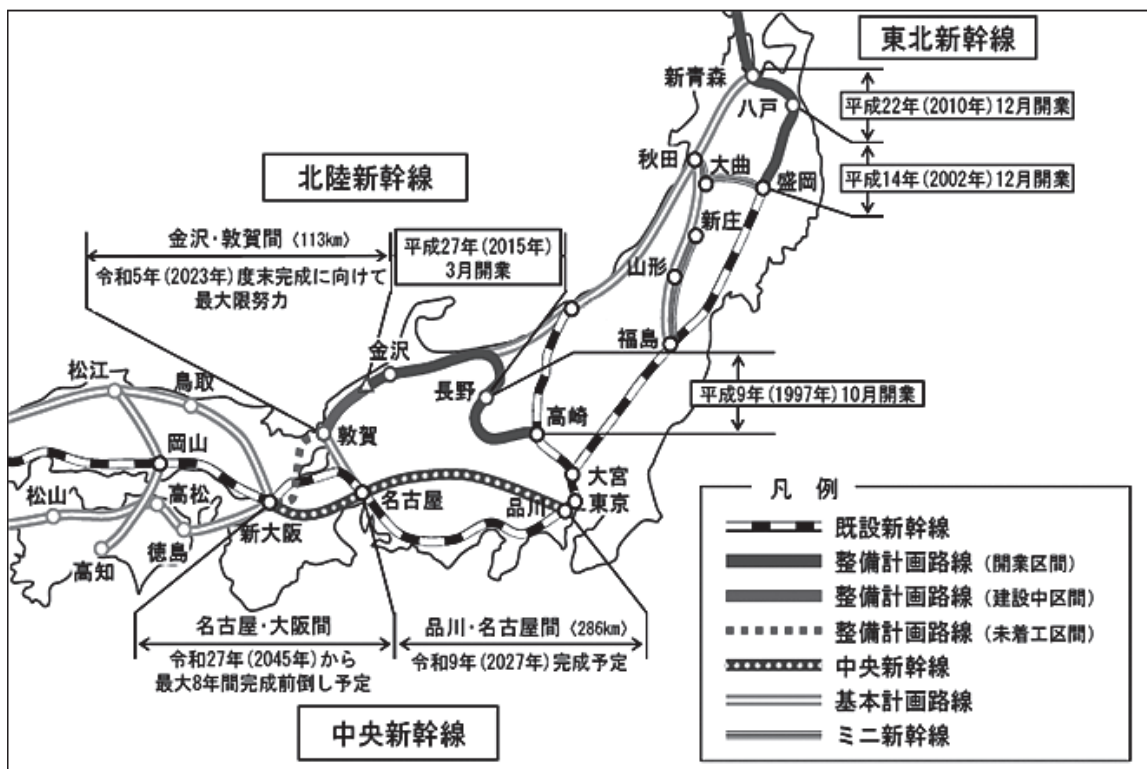


気象庁「地震データベース」を基に作成（群馬県HPより）

【資料3】



(「交通政策白書 2019」)



(「国土交通白書 2020」)

2 次の地形図を見て、以下の各問に答えなさい。



2万5千分の1地形図「湯浅」より

問1 地形図から読み取れることについて述べた次の文のうち、正しければ○、間  
ちが  
違っていれば×を答えなさい。

- ア、高城山の周辺の地域一帯には、果樹園が広がっている。
- イ、湯浅駅周辺には、神社が多い。
- ウ、ひろはちまん 広八幡神社から見て北西の方角にある天皇山の方が標高は高い。
- エ、坂部池の西となりには老人ホームがある。

問2 地形図中の広村堤防<sup>ていぼう</sup>から高城山までの直線距離<sup>きょり</sup>は地図上で5 cmである。実際の距離を答えなさい。

問3 地図中のAの地図記号は、最も新しく追加されたものである。この地図記号があらわすものは次のうちどれか、一つ選び、記号で答えなさい。

【地図記号A】



ア、風車      イ、記念碑<sup>ひ</sup>      ウ、史跡<sup>しせき</sup>      エ、自然災害伝承碑

問4 この地形図の地域において発生する自然災害としてあてはまらないものを次から一つ選び、記号で答えなさい。

ア、やませによる不作      イ、大雨による土砂崩れ<sup>くず</sup>  
ウ、地震による津波災害<sup>つなみ</sup>      エ、洪水による浸水被害<sup>こうずい しんすい</sup>

問5 自然災害から身を守るために作成された地図を何というか、答えなさい。



問6 防災に関する次の文章を読み、以下の各問に答えなさい。

「防災の日」が制定されたのは1960年です。9月1日に決まったのは、今から100年前の①関東大震災だいにんざいが起こった日であることや、その後の伊勢湾台風いせわんに代表されるように、9月1日前後は1年で最も台風が多く上陸する時期であることに由来しています。1982年以降は、9月1日をふくむ1週間が「防災週間」と定められ、国民全体で災害への備えを充実・強化する期間になっています。

そして、もう一つ大切な防災の日があります。11月5日の「津波防災の日」「世界津波の日」です。これは、1854年に起こった「②安政南海地震」による津波が和歌山県をおそった際の「稲むらの火」にちなんでいて、2015年には、③国連総会で「世界津波の日」として採択さいたくされました。

さらに、④東日本大震災が起こった3月11日を「防災教育と災害伝承の日」にしようという動きがあります。

- (1) 下線部①・④の自然災害について説明した文章を、次からそれぞれ一つずつ選び、記号で答えなさい。

ア、死者・行方不明者10万人以上にのぼる、日本史上最悪と呼ばれる地震災害。昼食の準備で火を使っていたことや、強風がふいていたことから火災による被害が拡大した。

イ、淡路島北部を震源とする地震で、6000人以上の死者・行方不明者が出た。道路・鉄道・電気・水道・ガス・電話などのライフラインが寸断された。これ以降、都市型災害および地震対策において、ライフラインの早期の復旧、活断層などへの配慮はいりょなどの行政の対策などが注目されるようになった。

ウ、伊豆から四国までの広範な地帯で立て続けに起こった地震により死者数千名、倒壊家屋3万軒以上という被害が出た。この災害時に、浜口梧陵はまぐちごりょうが津波から村人を救った話は、ラフカディオ・ハーン（小泉八雲）によって広く人々に知られるものとなった。

エ、三陸沖を震源とした震度7の巨大地震による津波や火災によって、1万8000人以上の死者・行方不明者が出た。震度5を観測した首都圏けんでは交通機関が止まったため多くの帰宅困難者が発生した。

- (2) 下線部②が起こった時代には、日本各地で大きな地震が立て続けに発生した。その後、当時の人々によって描かれた「なまず絵」が流行した。当時は、なまずが地震を起こすといわれ、この絵には、なまずをこらしめる様子がマンガ仕立てで描かれている。次のなまず絵を見て、読み取れないものを一つ選び、記号で答えなさい。



「国立国会図書館所蔵」

なまず：「アメリカはいろいろな国から人が集まるので、食べ物が不足し、日本まで米や大根を求めてくるが、早く立ち去れ」

人物A（図の右側の人物）

：「アメリカは、昨日は職人でも見いだされて王となる国だ」

- ア、なまずは、アメリカの来航によって日本の社会が混乱したことを語っている。
- イ、人物Aは、この絵が描かれた時代に日本に来航したペリーであると考えられる。
- ウ、人物Aは、アメリカでは身分にかかわりなく大統領が選ばれることを語っている。
- エ、なまずが人物Aと手を結んで、日本を支配しようとしている。
- (3) 下線部③について述べた文として、誤っているものを次から一つ選び、記号で答えなさい。
- ア、国際平和と安全をになう国際連合の機関は安全保障理事会である。
- イ、国連総会の議決は、出席投票国の3分の1以上の賛成で成立する。
- ウ、安全保障理事会の常任理事国には拒否権が与えられ、1か国でも反対すれば否決される。
- エ、国連にはUNESCOなどの専門機関があるとともに、国際紛争の平和的な解決のためにPKOが行われている。

3 次の年表を見て、以下の各問に答えなさい。

時代・年代	出来事	時期区分
縄文時代	狩りや漁が行われた	A
弥生時代	稲作が本格的にはじめられた 邪馬台国の女王【 あ 】が魏に使いを送った	B
古墳時代	渡来人により大陸の技術や文化が伝えられた 【 い 】から仏教が伝わった	C
飛鳥時代	天皇中心の政治のしくみがつくられ、仏教中心の文化が栄えた 607年 【 う 】が遣隋使として派遣された	D
奈良時代	律令によって政治を整え、中国の影響をうけた文化が栄えた 720年 日本の歴史書である【 え 】が完成した	E
平安時代	遣唐使が停止され、日本風の文化が発達した 【 お 】が摂政の位につき、政治の実権をにぎった	F
鎌倉時代	武士の政権である鎌倉幕府が開かれた 1281年 【 か 】(蒙古襲来)が起こった 1333年 鎌倉幕府が滅亡した	G
室町時代	足利尊氏により室町幕府が開かれた 15世紀初めに日明貿易が始まった 1467年 【 き 】が起こり、戦乱の世になった	H
安土・桃山時代	織田信長が室町幕府を再興した 1592年 豊臣秀吉が【 く 】を起こした	I
江戸時代	1603年 徳川家康が江戸に幕府を開いた 1854年 アメリカと【 け 】条約を結び、開国した 1867年 大政奉還がなされた	J
明治時代	1889年 大日本帝国憲法が制定された 1894年 日清戦争が起こった 1910年 韓国併合を行った	K
大正時代	1914年 第一次世界大戦が起こった 1923年 関東大震災が発生した	L
昭和時代	1939年 第二次世界大戦が起こった 1945年 ポツダム宣言を受諾し、終戦をむかえた 1965年 【 こ 】が結ばれ、国交が正常化した 1972年 中国との国交が正常化した	M
平成時代	1990年 東西ドイツが統一された 2001年 アメリカで同時多発テロ事件がおこった 2008年 世界金融危機がおこった	N

問1 年表の空欄【 あ 】～【 こ 】にあてはまる語句を次の語群こぐんからそれぞれ一つずつ答えなさい。

【語群】 小野妹子      文禄の役      日米和親      応仁の乱      弘安の役  
 卑弥呼      菅原道真      藤原道長      日米修好通商      日韓基本条約  
くだら百濟      こうくり高句麗      日本書紀      蘇我馬子      日ソ共同宣言

問2 次の世界遺産に登録された文化財ア～エと関わりの深い時代を、年表の時期区分A～Nの中から一つずつ選びなさい。

ア、



イ、



ウ、



エ、




問3 次の資料ア～エと関わりの深い時代を年表の時期区分A～Nの中から一つずつ選びなさい。


ア、



イ、



ウ、



エ、



4 次の文章を読み、以下の各問に答えなさい。

複雑で多様化した現代社会では、情報化社会の形成や公害・<sup>かんきょう</sup>環境問題の深刻化など、憲法制定時には予想ができなかったような現象や問題が生じている。そこで、現在ではそれらに対応した (a) 新しい権利の保障が求められるようになった。(b) 国や大企業が持つ情報の開示を請求する権利、(c) プライバシーの権利、環境権、(d) 自分の生き方や生活のしかたを自身で決定・判断する権利などがその代表例である。

問1 下線部 (a) に関して、次の問に答えなさい。

- (1) 新しい人権は憲法第13条や第25条を<sup>こんきよ</sup>根拠としている。次の条文の空欄 (あ) ~ (え) にあてはまる言葉を下のア~キからそれぞれ一つずつ選び、記号で答えなさい。

第13条 すべて国民は、(あ)として尊重される。生命、自由及び<sup>およ</sup>(い)に対する国民の権利については、公共の福祉<sup>ふくし</sup>に反しない限り、立法その他の国政の上で、最大の尊重を必要とする。

第25条 すべて国民は、(う)で(え)的な最低限度の生活を営む権利を有する。

ア、平等      イ、文化      ウ、個人      エ、幸福追求      オ、社会  
カ、人間      キ、健康

- (2) 第25条中の下線部の権利を何というか、答えなさい。

問2 下線部 (b) に関して述べた次の文のうち、間違っているものを次から一つ選び、記号で答えなさい。

- ア、この権利は、知る権利である。  
イ、この権利は、憲法第21条の表現の自由の保障を根拠としている。  
ウ、この権利を行使できるようにするため、1999年に情報公開法が制定された。  
エ、情報公開法では、個人情報<sup>ふく</sup>の公開も含まれている。

問3 下線部(c)のプライバシーの権利に関して、間違っているものを次から一つ選び、記号で答えなさい。

ア、私事や私生活など自己の情報を他人から守る権利である。

イ、プライバシーの権利は日本国憲法の条文に明記されている。

ウ、2005年から個人情報保護法が施行されている。

エ、個人情報保護法では、自己情報の誤った事実について訂正・利用停止を請求する権利が認められている。

問4 下線部(d)に関して、この権利に関する事例としてあてはまらないものを次から一つ選び、記号で答えなさい。

ア、インフォームドコンセント

イ、臓器提供意思表示カード

ウ、輸血の拒否

エ、ノーマライゼーション

問5 次の①～③の事例は新しい人権のどれにあてはまるか、下のア～エからそれぞれ一つずつ選び、記号で答えなさい。

- ① 三島由紀夫の小説は、外務大臣も務めたことのある元衆議院議員の主人公が料亭の女将と再婚し離婚するまでを描いたもので、一読して主人公が特定できるものであったため、主人公のモデルとなった男性が裁判所に訴えた。
- ② 大阪空港に離着陸する航空機の騒音、振動、排ガスなどの被害を受けている周辺住民が、夜21時以降翌朝7時までの夜間飛行差し止めを求めた。
- ③ 毎日新聞の記者が、沖縄復帰にともない、日米間の密約の秘密電文を親しい女性事務官から入手して起訴された。

ア、国や大企業が持つ情報の開示を請求する権利

イ、プライバシーの権利

ウ、環境権

エ、自分の生き方や生活のしかたを自身で決定・判断する権利

問6 近年のインターネットの普及により、新しい人権として、インターネット上に他人によって出された不都合な個人情報を消し去ることができる権利が主張されている。この権利を次から一つ選び、記号で答えなさい。

ア、アクセス権

イ、肖像権

ウ、忘れられる権利

エ、知的財産権